

1-нұсқа

ГЕОГРАФИЯ

1. Жердің пішіні туралы алғашқы пікірді ұсынған

- A) ежелгі инктер
- B) ежелгі римдіктер
- C) ежелгі мысырлықтар
- D) ежелгі гректер**
- E) ассириялықтар

2. Гибралтар бұғазы бөлетін материктер

- A) Еуразия мен Аустралия
- B) Оңтүстік Америка мен Солтүстік Америка
- C) Еуразия мен Солтүстік Америка
- D) Оңтүстік Америка мен Антарктида
- E) Еуразия мен Африка**

3. Соқтығысу, ажырау, кірігу қозғалыстары болатын аймақ

- A) ядро мен жер қыртысының шекарасы
- B) мантия мен ядроның шекарасы
- C) литосфералық тақталар шекарасы**
- D) базальт қабаты мен ядро аралығы
- E) ядро мен гранит қабаты аралықтары

4. Ғалымдардың болжамы бойынша мантияның төменгі шекарасындағы температура

- A) 2200°C
- B) 3000°C
- C) 5200°C
- D) 1500°C
- E) 3800°C**

5. «Диуани лұғат-ат-түрік» еңбегі жазылған уақыт

- A) Xғ.
- B) VII ғ.
- C) XI ғ.**
- D) XVII ғ.
- E) IXғ.

6. Алюминий зауыты орналасқан қала

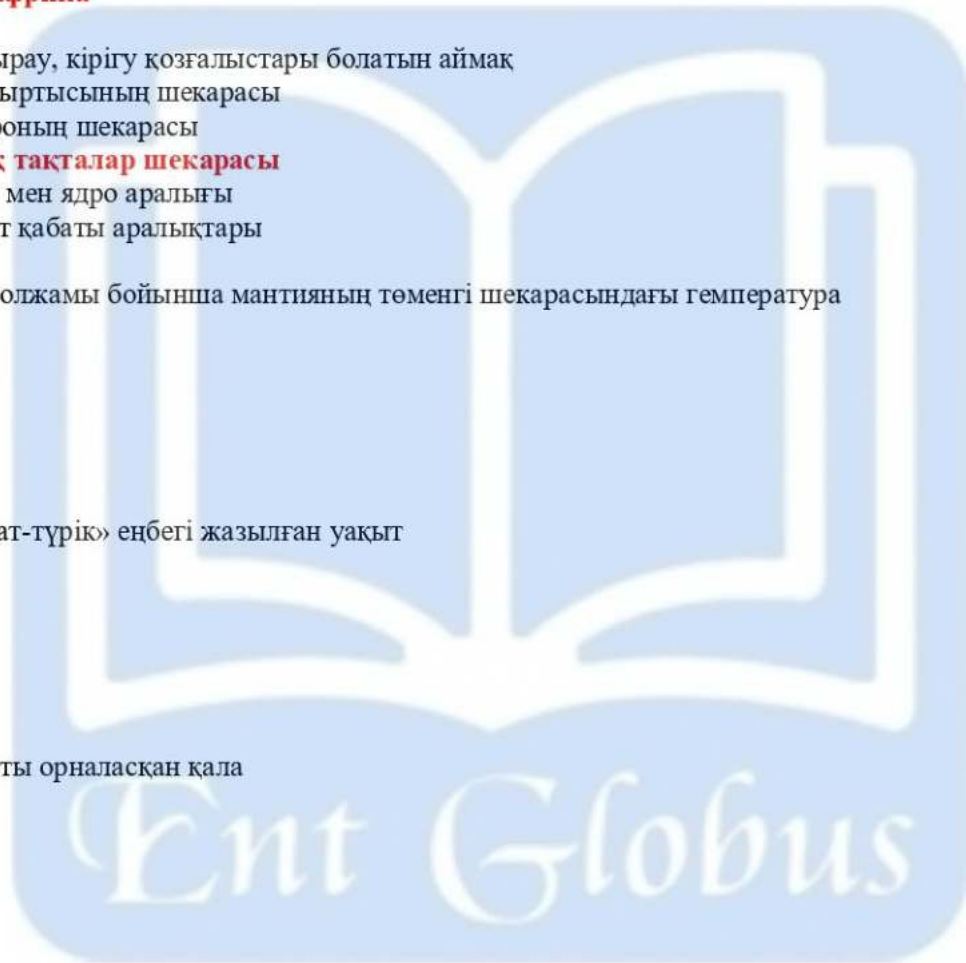
- A) Қарағанды
- B) Павлодар**
- C) Өскемен
- D) Ақтөбе
- E) Жезқазған

7. Унигарлы мемлекет

- A) Канада
- B) Мексика
- C) Бразилия
- D) Франция**
- E) АҚШ

8. Қалалардың өсуі мен қалалық өмір салтының кеңінен таралу үрдісі

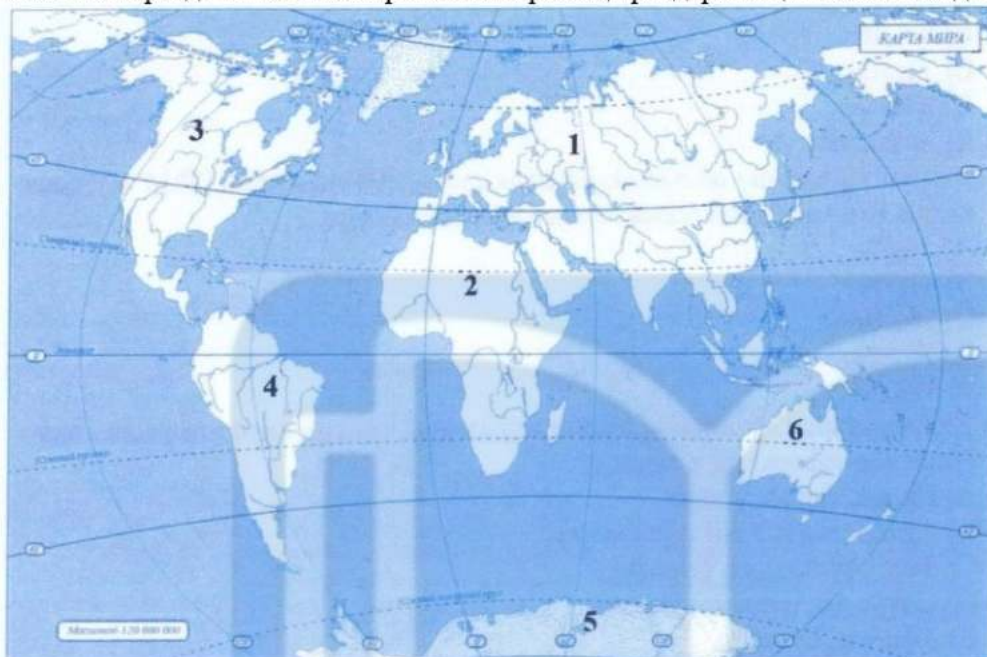
- A) консолидация
- B) миграция
- C) демографиялық жарылыс
- D) ассимиляция
- E) урбандалу**



9.«Боинг» корпорациясының штаб-пәтері орналасқан мемлекет

- A) Жапония
- B) Қытай
- C) АҚШ**
- D) Канада
- E) Ұлыбритания

10.Кескін картада 4 санымен берілген материктің аралдармен қоса есептегендегі ауданы



- A) 54 млн км²
- B) 18,3 млн км²**
- C) 14 млн км²
- D) 30,3 млн км²
- E) 9 млн км²

11.Субэкваторлық ауыспалы ылғалды ормандар зонасына сәйкес келетін тұжырым

- A) Тек қана қылқанжапырақты ағаштар өседі
- B) Майшетен, жүзім, цитрус өсіріледі
- C) Негізгі жануарлары - қарсақ, қасқыр, түлкі
- D) Жазы аптап ыстық, құрғақ, ал қысы суық
- E) Үндістанның батыс жағалауын алып жатыр**

12.Ресеймен шектесетін облыс

- A) Ақмола
- B) Маңғыстау
- C) Алматы
- D) Атырау**
- E) Қарағанды

13.Мұхиттық аралдарда орналасқан монархиялы ел

- A) Тувалу
- B) Палау
- C) Фиджи
- D) Тонга**
- E) Науру

14. Ресеймен шекарасы шектеспейтін ел

- A) Монғолия
- B) КХДР
- C) Түркия**
- D) Қытай
- E) Қазақстан

15. Шығыс Қазақстан облысында халық саны 1394 мың адам (2013 ж.), қала халқы 816 мың адам болса, ауыл халқының үлесі

- A) 50,5%
- B) 41,5%**
- C) 58,5%
- D) 70,3%
- E) 35,6%

16. Ең биік шыңы Аконкагуа болып табылатын таудың қалыптасуына әсер еткен литосфералық тақталар

- A) Наска, Тынық мұхит
- B) Антарктида, Үнді-Аустралия
- C) Үнді-Аустралия, Еуразия
- D) Оңтүстік Америка, Наска**
- E) Африка, Еуразия

17. Қаратау жотасында кездесетін минералды ресурс

- A) алтын
- B) марганец
- C) фосфорит**
- D) күміс
- E) мыс

18. Сауыр тауындағы көмір кен орны

- A) Майкүбі
- B) Қаражыра
- C) Кендірлік**
- D) Обаған
- E) Альп

19. Қарағанды мен Теміртаудың айналасында топтасқан қала типтес елді мекендер

- A) Жезқазған, Топар, Өтеген
- B) Абай, Топар, Қапшағай
- C) Қапшағай, Талғар, Шымбұлақ
- D) Абай, Саран, Шахты**
- E) Қаскелең, Долинка, Есік

20. Таудың етегіндегі атмосфералық қысым 730 мм, ал шыңында 350 мм болса таудың биіктігі

- A) 230 м
- B) 3800 м**
- C) 3500 м
- D) 7300 м
- E) 250 м

21. Жердің су қабат(-тар)ы

- A) экзосфера
- B) атмосфера
- C) стратосфера
- D) биосфера
- E) тропосфера
- F) литосфера
- G) гидросфера**
- H) ионосфера

22. Өтпелі климаттық белдеу(-лер)

- A) қоңыржай
- B) субтропиктік**
- C) тропиктік
- D) субантарктикалық**
- E) антарктикалық
- F) экваторлық
- G) арктикалық
- H) субэкваторлық**

23. Өндірістік сала(-лар)

- A) білім беру
- B) мәдениет
- C) ауылшаруашылығы**
- D) қызмет көрсету
- E) қоғамдық тамақтану
- F) ғылым
- G) денсаулық сақтау
- H) туризм

24. Қазақстан жер бедерінің ең төменгі жер(-лер)і

- A) Мұзтау
- B) Қызылқұм
- C) Өгем
- D) Үлкен Борсық
- E) Сайрам
- F) Үстірт
- G) Қарақия**
- H) Жалпы Сырт

25. Оңтүстік Африка Республикасы бай пайдалы қазба(-лар)

- A) платина**
- B) газ
- C) күміс
- D) полиметалл
- E) алтын**
- F) алмас**
- G) асбест
- H) мұнай

26. Географиялық қабыққағы жыл ішіндегі ырғақтылық(-тар)

- A) жануарлардың қысқы ұйқыға кетуі**
- B) жанартаудың атқылауы
- C) найзағайдың соғуы
- D) жыл мезгілдерінің ауысуы**
- E) толысу, қайту құбылысы
- F) күн мен түннің ауысуы
- G) құстардың жылы жаққа ұшуы**
- H) бриз желдерінің бағытының ауыстыруы

27. Отын-энергетика кешенінің құрамына кіретін сала(-лар)

- A) темір өндірісі
- B) машина жасау
- C) көмір өндіру**
- D) металл құю
- E) бидай егу
- F) орман шаруашылығы
- G) химия өнеркәсібі
- H) құрылыс

28. Германияның мемлекеттік құрылымы

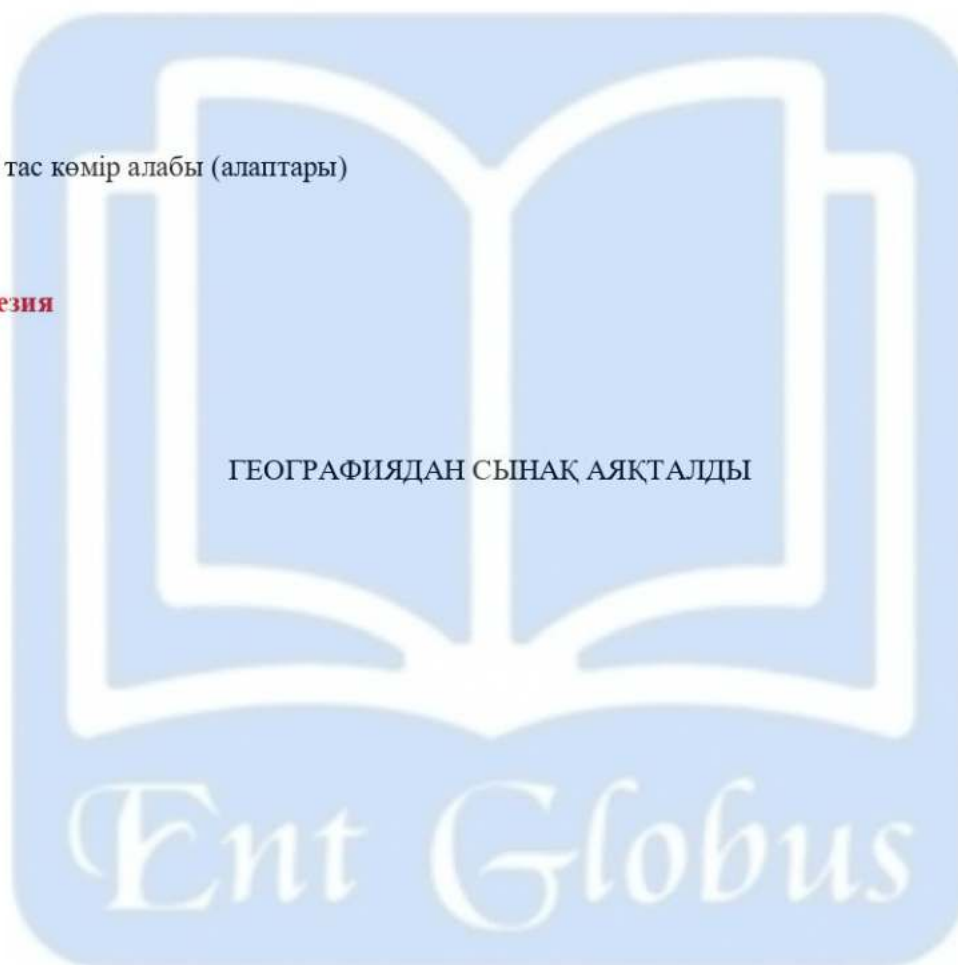
- A) унитарлы республика
- B) унитарлы конституциялық монархия
- C) абсолюттік монархия
- D) федерациялық теократтық монархия
- E) конституциялық монархия
- F) теократтық монархия
- G) федерациялық абсолюттік монархия
- H) федерациялық республика**

29. Үстірт қорығында қорғалатын жануар(-лар)

- A) көзілдірікті аю
- B) жұпар тышқан
- C) муфлон (арқар)**
- D) қоқиқаз
- E) сусар
- F) сыбырлақ аққу
- G) қабан
- H) орақтұмсық

30. Еуропадағы ірі тас көмір алабы (алаптары)

- A) Аньхой
- B) Рур**
- C) Ашпалач
- D) Жоғарғы Силезия**
- E) Қарағанды
- F) Донецк
- G) Каражас
- H) Кузнецк



2-нұсқа

1. Гибралтар бұғазы бөлетін материктер
А) Еуразия мен Солтүстік Америка
В) Оңтүстік Америка мен Солтүстік Америка
С) Еуразия мен Аустралия
D) Оңтүстік Америка мен Антарктида
Е) Еуразия мен Африка
2. Ғалымдардың болжамы бойынша мантияның төменгі шекарасындағы температура
А) 1500°C
В) 2200°C
С) 5200°C
D) 3000°C
Е) 3800°C
3. Жердегі тірі ағзалар мекендейтін және олардың әсерінен өзгерген қабығы
А) экзосфера
В) биосфера
С) мезосфера
D) ионосфера
E) стратосфера
4. Жер қыртысының қозғалысын бақылайтын сезімтал құрал
А) гигрометр
В) термометр
С) сейсмограф
D) анероид
E) барометр
5. Шығыс Қазақстан облысының қаласы
А) Атасу
В) Екібастұз
С) Жезқазған
D) Риддер
E) Павлодар
6. Оңтүстік Қазақстан экономикалық ауданындағы суперфосфат зауыты орналасқан қала
A) Тараз
В) Шымкент
С) Кентау
D) Алматы
E) Талдықорған
7. Ресейдің негізгі территориясымен ортақ шекарасы жоқ бөлігі
А) Батыс-Сібір
В) Волга-Вятка
С) Орал
D) Калининград
E) Қиыр Шығыс
8. Шаруашылығының басты саласы отын-энергетика болып табылатын ел
А) Грузия
В) Украина
С) Армения
D) Молдова
E) Беларусь

9. Боксит өндіретін негізгі елдер

- A) **Аустралия, Ямайка**
- B) Аустралия, Германия
- C) Германия, Испания
- D) Франция, Ұлыбритания
- E) АҚШ, Жапония

10. Бағыттауышпен көрсетілген географиялық аймақ



- A) Бетпақдала
- B) **Солтүстік Қазақ жазығы**
- C) Тұран
- D) Қазақтың ұсақ шоқысы
- E) Мұғалжар

11. Атлант мұхитының ең таяз жері орналасқан қайран

- A) Кермадек
- B) Куриль-Камчатка
- C) **Доггер-Банка**
- D) Мариан
- E) Тонга

12. Ақтоғай-Достық теміржол байланысына жататын теміржол магистралі

- A) **Трансазия**
- B) Трансқазақстан
- C) Оңтүстік - Сібір
- D) Орынбор - Ташкент
- E) Орта Сібір

13. Шекарасының бір бөлігі Каспий теңізі жағалауымен өтетін елдер

- A) Қырғызстан, Ресей, Қазақстан, Тәжікстан
- B) Өзбекстан, Ресей, Қазақстан, Түркіменстан
- C) Әзірбайжан, Ресей, Қырғызстан, Түркіменстан
- D) **Әзірбайжан, Ресей, Қазақстан, Түркіменстан**
- E) Тәжікстан, Украина, Қазақстан, Түркіменстан

14. Ең үлкен дүние бөлігінде орналасқан федерациялы монархия елі

- A) **БАӘ**
- B) Жапония
- C) Сауд Арабиясы
- D) Катар
- E) Үндістан

15. Ылғалдану коэффициенті - 0,71, буланушылық - 700 мм болса, жауын- шашын мөлшері

- A) 248 мм
- B) 497 мм**
- C) 715 мм
- D) 316 мм
- E) 535 мм

16. Алғашқы аквалангты жасаған теңізші

- A) Т.Хейердал
- B) А.Гумбольдт
- C) М.Бехайм
- D) Ф.Крузенштерн
- E) Ж. Кусто**

17. Қазақстанда марал шаруашылығы дамыған аймақта өсірілетін техникалық дақыл

- A) тары
- B) күнбағыс**
- C) темекі
- D) күріш
- E) қант қызылшасы

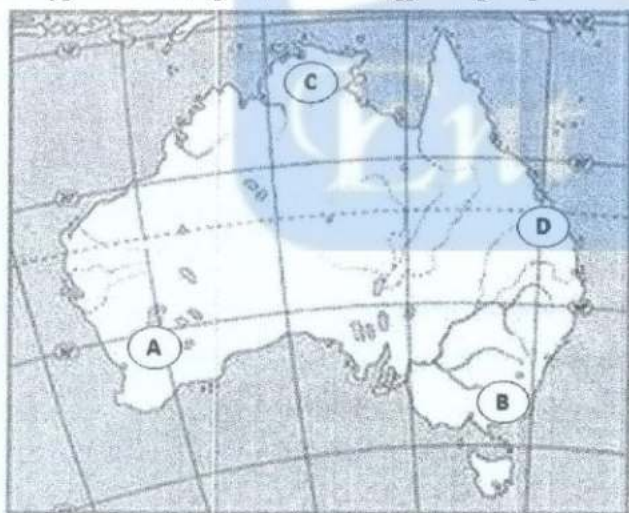
18. Жоңғар қақпасы арқылы Ебінұрдан Алакөлге қарай соғатын жергілікті желдің жылдамдығы

- A) 60-80 м/сек**
- B) 50 м/сек
- C) 30-35 м/сек
- D) 40 м/сек
- E) 50-60 м/сек

19. Махмуд Қашғаридың еңбегі

- A) «Сібірдің сызба кітабы»
- B) «Жоңғария очерктері»
- C) «Арал теңізі»
- D) «Ғылымдардың шығуы»
- E) «Диуани лұғат ат-түрік»**

20. Суреттегі ақпаратқа сәйкес дұрыс тұжырым



- A) ең жоғары температура В нүктесінде байқалады
- B) Б нүктесі материктің батысында орналасқан
- C) экваторға ең жақын орналасқан нүкте А
- D) В нүктесінде ең төмен температура байқалады**
- E) С нүктесі тропиктік белдеуде орналасқан

21. Географиялық қабықтағы жыл ішіндегі ырғақтылық(-тар)

- A) найзағайдың соғуы
- B) бриз желдерінің бағытының ауыстыруы
- C) күн мен түннің ауысуы
- D) толысу, қайту құбылысы
- E) құстардың жылы жаққа ұшуы**
- F) жыл мезгілдерінің ауысуы**
- G) жануарлардың қысқы ұйқыға кетуі**
- H) жанартаудың атқылауы

22. Еуразияда орналасқан монархиялық мемлекет(-тер)

- A) Беларусь
- B) Қазақстан
- C) Ресей
- D) Украина
- E) Өзбекстан
- F) Қытай
- G) Ұлыбритания**
- H) Жапония**

23. Толық циклды металлургия комбинаты шығаратын өнім(-дер)

- A) феррохром
- B) шойын**
- C) марганец
- D) кремний
- E) болат**
- F) хром
- G) қорғасын
- H) прокат**

24. 1 т цемент алу үшін жұмсалатын шикізат мөлшері


- A) 2,5 т
- B) 2 т
- C) 0,5 т
- D) 3,5 т
- E) 1,5 т**
- F) 3 т
- G) 5 т
- H) 4т

25. Африканың шаруашылық үшін маңызы зор өзен(-дер)і

- A) Нигер**
- B) Эйр-Норд
- C) Конго**
- D) Лобнор
- E) Виктория
- F) Чад
- G) Танганьика
- H) Ніл**

26. Негізгі климаттық белдеу(-лер)

- A) экваторлық**
- B) субарктикалық
- C) субэкваторлық
- D) субантарктикалық
- E) субтропиктік
- F) тропиктік**
- G) континенттік
- H) қоңыржай**



27. Қазақстандағы 1899 жылы игерілген алғашқы мұнай кәсіпшілігі (кәсіпшіліктері)

- A) Қарашүңгіл**
- B) Мақат
- C) Құмкөл
- D) Атырау
- E) Құрманғазы
- F) Теңіз
- G) Қарашығанақ
- H) Доссор

28. Бразилия мемлекетінің ірі қаласы (қалалары)

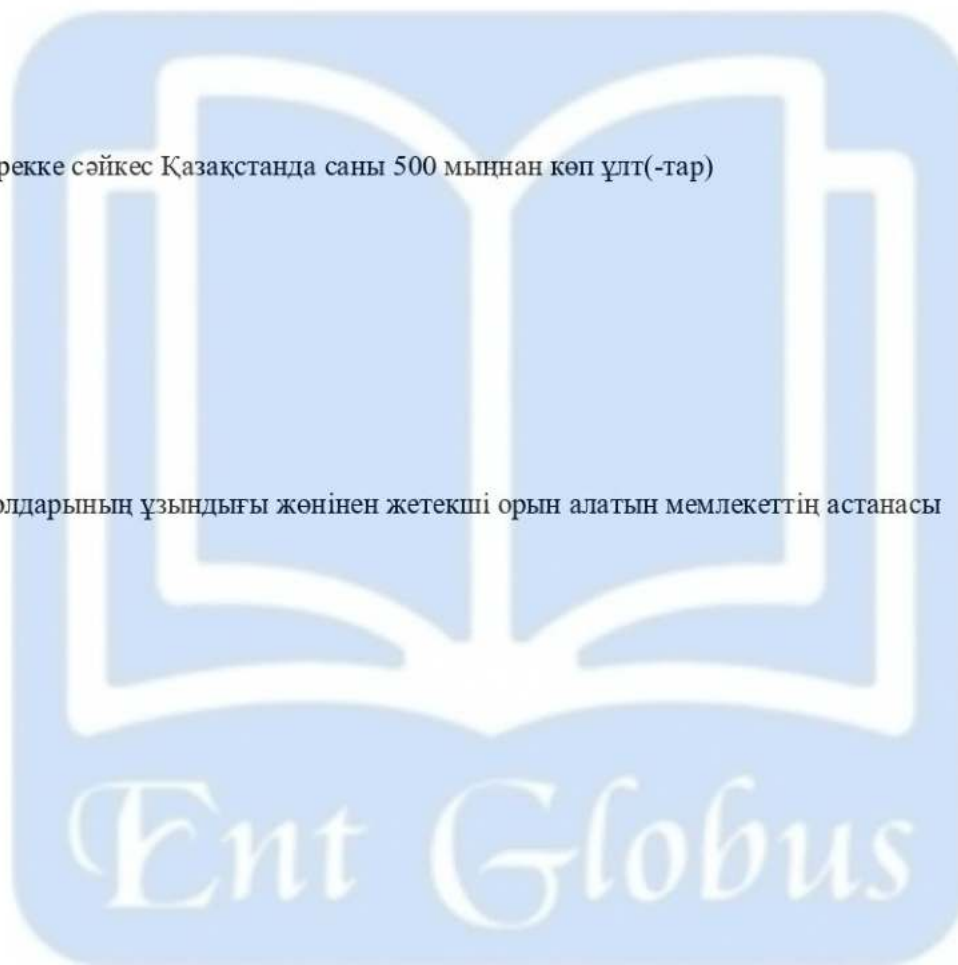
- A) Лондон
- B) Манаус**
- C) Оттава
- D) Рио-де-Жанейро**
- E) Токио
- F) Сан-Паулу**
- G) Бостон
- H) Монреаль

29. 2013 жылғы дерекке сәйкес Қазақстанда саны 500 мыңнан көп ұлт(-тар)

- A) әзірбайжандар
- B) өзбектер**
- C) түріктер
- D) ұйғырлар
- E) орыстар**
- F) қазақтар**
- G) немістер
- H) татарлар

30. Автомобиль жолдарының ұзындығы жөнінен жетекші орын алатын мемлекеттің астанасы

- A) Мадрид
- B) Бразилия
- C) Женева
- D) Вашингтон**
- E) Лондон
- F) Бангкок
- G) Канберра
- H) Мехико



3-нұсқа

1. Температуралары бірдей нүктелерді қосатын қисық сызықтар

- A) изобарлар
- B) горизонтальдар
- C) изогнеталар
- D) изотермалар**
- E) изохоралар

2. Еуразия тақтасының Үнді-Аустралия тақтасымен соқтығысқан жерінде түзілген тау

- A) Памир
- B) Алтай
- C) Тянь-Шані,
- D) Гималай**
- E) Тибет

3. Бірнеше ғасырдың ішінде құрлықтың биіктігін және пішінін қатты өзгертетін негізгі күштер

- A) тау жасалу қозғалысы**
- B) өзендер мен көлдердің тасуы
- C) жануарлар және өсімдіктердің көп таралуы
- D) жердің пайдалы қазбаларының азаюы
- E) мұздықтардың көбеюі мен жылжуы

4. Жер қыртысының қалыптасуына кеткен уақыт

- A) 2,5 - 3,5 млрд**
- B) 4 - 5 млрд
- C) 4 - 7 млрд
- D) 1 - 3 млрд
- E) 2 - 4 млрд

5. Қазақстан Республикасындағы электр қуатының ең арзан түрі

- A) жылу электр стансасы
- B) атом электр стансасы
- C) күн электр стансасы
- D) су электр стансасы**
- E) жел электр стансасы

6. Отын өнеркәсібінің саласы

- A) мұнай және газды өңдеу зауыттары
- B) атом электр стансасы
- C) мұнай өнеркәсібі**
- D) су электр стансасы
- E) электр энергиясын жеткізу

7. ТМД құрамындағы федерациялық мемлекет

- A) Ресей**
- B) Қазақстан
- C) Өзбекстан
- D) Беларусь
- E) Қырғызстан

8. Отын-энергетикалық ресурс

- A) темір
- B) көмір**
- C) мыс
- D) фосфорит
- E) боксит

9. Шығыс Еуропада жүк айналымының үлесі басым көлік түрі

- A) құбыр жолы
- B) өзен жолы
- C) автомобиль
- D) әуе жолы
- E) теміржол**

10. Сызбада көрсетілген тау жоталары тиесілі физикалық-географиялық аймақ



- A) Мұғалжар
- B) Шығыс Еуропа
- C) Сарыарқа**
- D) Алтай
- E) Тянь-Шань

11. Қатты жапырақты мәңгі жасыл ормандар мен бұталар зонасына сәйкес келетін тұжырым

- A) Үндістанның батыс жағалауын алып жатыр
- B) Тек қана қылқанжапырақты ағаштар өседі,
- C) Жазы аптап ыстық, құрғақ, ал қысы суық
- D) Жазы ыстық, құрғақ, қысы жылы, ылғалды**
- E) Негізгі жануарлары - қарсақ, қасқыр, түлкі

12. Оңтүстік Орал мен Еділ өзендерінің аралығында орналасқан қырат

- A) Каспий маңы
- B) Жем
- C) Бетпақдала
- D) Жалпы Сырт**
- E) Үстірт

13. Францияның оңтүстігін шайып жатқан су айдыны

- A) Ион теңізі
- B) Адриат теңізі
- C) Бискай шығанағы
- D) Па-де-Кале бұғазы
- E) Жерорта теңізі**

14. Жапонияда таралған ұлттық дін

- A) даосизм
- B) шаманизм
- C) тотемизм
- D) иудаизм
- E) синтоизм**

15. Қазақстанның жер аумағы 2724,9 мың км², ал Батыс Қазақстан облысының ауданы 151 мың км². Батыс Қазақстан облысының Қазақстан аумағындағы үлесі

- A) «5,5%
- B) «4,8%
- C) «4,5%
- D) «6,5%
- E) «5,8%

16. Саяхатшылар лагерьден 225° азимут бағытында орналасқан көлге балық аулауға барады. Саяхатшылар лагерьге жету үшін таңдайтын бағыт

- A) оңтүстік-шығыс
- B) солтүстік-шығыс**
- C) оңтүстік-батыс
- D) оңтүстік
- E) солтүстік-батыс

17. Сауыр тауындағы көмір кен орны

- A) Альп
- B) Кендірлік**
- C) Обаған
- D) Майкүбі
- E) Қаражыра

18. Сауыр тауындағы көмір кен орны

- A) Майкүбі
- B) Қаражыра
- C) Кендірлік**
- D) Обаған
- E) Альп

19. Сауыр тауының ең биік нүктесі

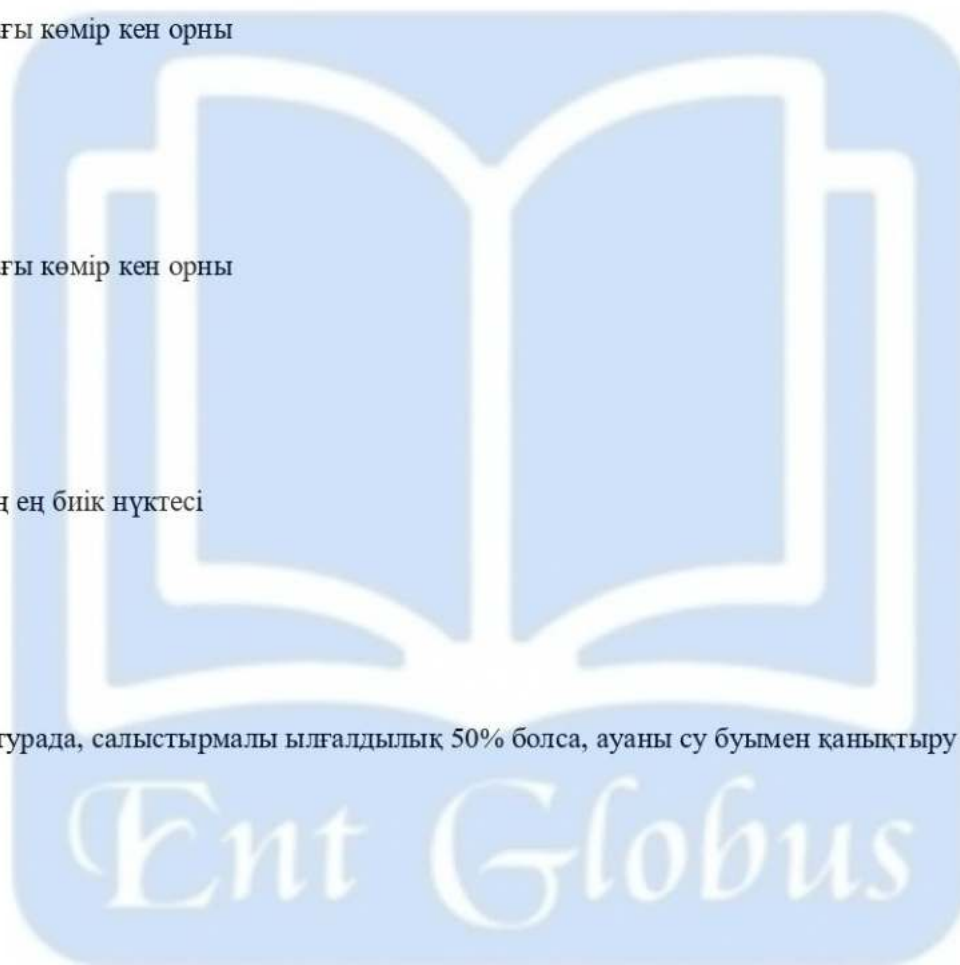
- A) 4656 м
- B) 3816 м**
- C) 1565 м
- D) 2992 м
- E) 4506 м

20. +30°C температурада, салыстырмалы ылғалдылық 50% болса, ауаны су буымен қанықтыру үшін қажет су буы мөлшері

- A) 50 г
- B) 20 г
- C) 15 г**
- D) 10 г
- E) 30 г

21. Метеорологиялық құрал(-дар)

- A) таспа
- B) эхолот
- C) тұсбағдар
- D) планшет
- E) аша
- F) термометр**
- G) барометр**
- H) гигрометр**



22. Өтпелі климаттық белдеу(-лер)

- A) қоңыржай
- B) субтропиктік**
- C) тропиктік
- D) субантарктикалық**
- E) антарктикалық
- F) экваторлық
- G) арктикалық
- H) субэкваторлық**

23. Қарағанды - Теміртау агломерациясының құрамына кіретін қала(-лар)

- A) Екібастұз
- B) Қаскелең
- C) Талғар
- D) Рудный
- E) Қапшағай
- F) Абай**
- G) Саран**
- H) Есік

24. Жеңіл түсті металл (металдар)

- A) мыс
- B) магний**
- C) мырыш
- D) қалайы
- E) титан**
- F) никель
- G) алюминий**
- H) қорғасын

25. Аустралия жағалауын шайып жатқан теңіз(-дер)


- A) Маржанды**
- B) Тасман**
- C) Тимор**
- D) Норвег
- E) Баффин
- F) Гренланд
- G) Филиппин
- H) Баренц

26. Негізі архей және протерозой эраларында қалыптасқан ежелгі платформа(-лар)

- A) Батыс Сібір, Алдан
- B) Гималай, Алдан
- C) Батыс Сібір, Тұран
- D) Шығыс Еуропа, Аустралия**
- E) Альпі-Гималай
- F) Канада, Балтық
- G) Батыс-Сібір, Алтай
- H) Батыс Еуропа, Тұран

27. Қазақстандағы мыс балқыту комбинаты бар елді мекен(-дер)

- A) Балқаш**
- B) Соколов
- C) Жезқазған**
- D) Тараз
- E) Шымкент
- F) Кемпірсай
- G) Лисаков
- H) Дөң



28. Дүние жүзіндегі ең алып мегалополис


- A) Рим
- B) Пекин
- C) Сидней
- D) Токайдо**
- E) Мадрид
- F) Сингапур
- G) Шанхай
- H) Торонто

29. Павлодар алюминий зауытын қажетті шикізатпен қамтамасыз ететін кен орны (орындары)

- A) Арысқұм
- B) Өзен
- C) Қаражамбас
- D) Кеңкияқ
- E) Арқалық**
- F) Дария
- G) Жаңажол
- H) Мамыт

30. Автомобиль жолдарының ұзындығы жөнінен жетекіші орын алатын мемлекеттің астанасы

- A) Лондон
- B) Вашингтон**
- C) Бразилиа
- D) Мехико
- E) Бангкок
- F) Канберра
- G) Женева
- H) Мадрид



4-нұсқа

1. Глобуста меридианға кесе-көлденең орналасқан сызықтар

- A) бойлықтар
- B) изосызықтар
- C) ендіктер
- D) параллельдер**
- E) горизонтальдар

2. Атмосфералық қысымды өлшейтін құрал

- A) барометр**
- B) флюгер
- C) компас
- D) эхолот
- E) сейсмограф

3. Аустралия материгіндегі ұлттық саябақ

- A) Севенна
- B) Улуру**
- C) Дарьен
- D) Гарамба
- E) Фанди

4. Жер қыртысының қозғалысын бақылайтын сезімтал құрал

- A) гигрометр
- B) термометр
- C) сейсмограф**
- D) анероид
- E) барометр

5. Жем, Ырғыз, Ор өзендері бастау алатын физикалық-географиялық аудан

- A) Тұран
- B) Мұғалжар**
- C) Алтай
- D) Сарыарқа
- E) Шығыс Еуропа

6. Эмигранттардың елге қайта оралу үрдісі

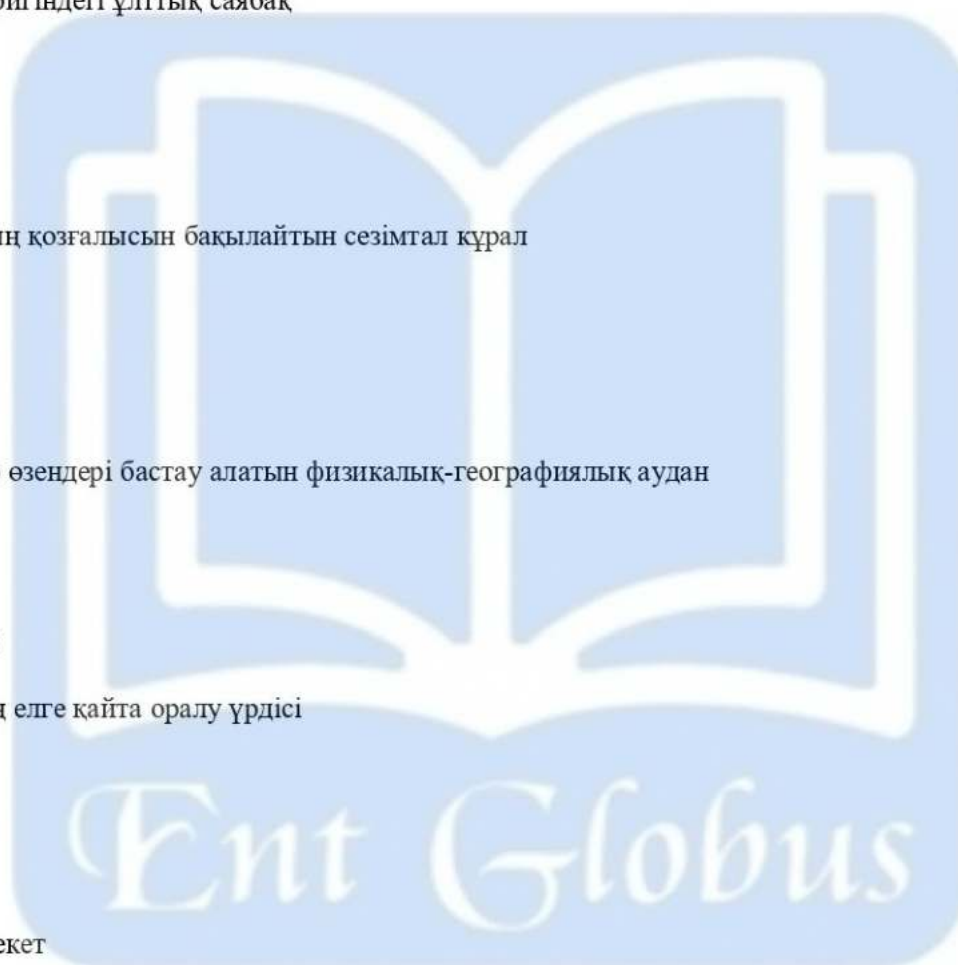
- A) репатриация**
- B) иммиграция
- C) эмиграция
- D) реэмиграция
- E) миграция

7. Унитарлы мемлекет

- A) Канада
- B) Мексика
- C) Бразилия
- D) Франция**
- E) АҚШ

8. Хонсю, Хоккайдо, Кюсю, Сикоку аралдарында орналасқан ел

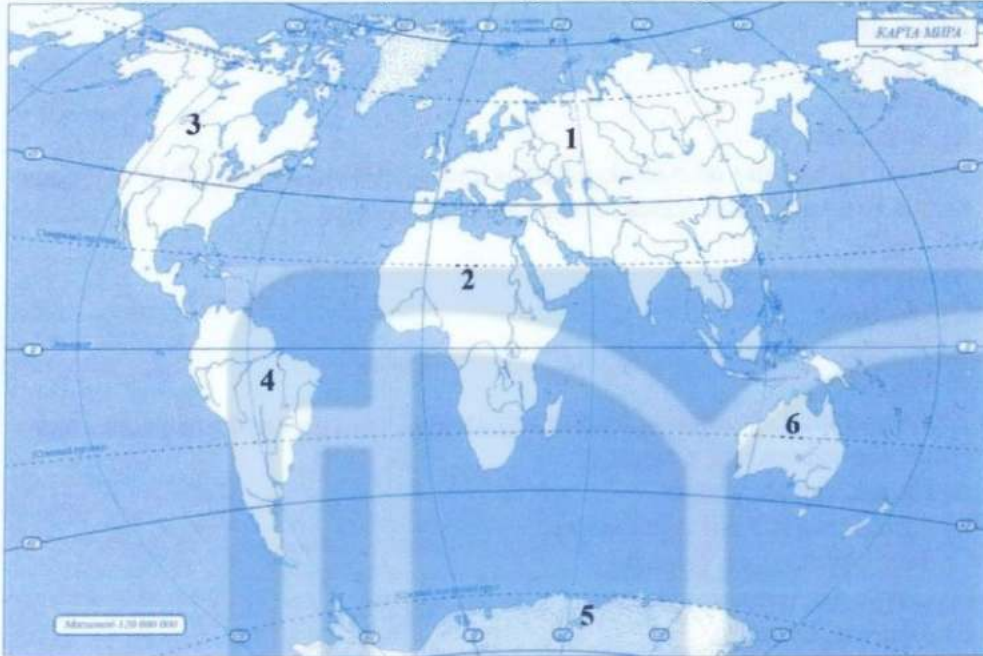
- A) Филиппин
- B) Индонезия
- C) Вьетнам
- D) Жапония**
- E) Лаос



9. Беларусь мемлекетінің шығысындағы көршілес елі

- A) Молдова
- B) Ресей**
- C) Австрия
- C) Украина
- E) Польша

10. Кескін картада 4 санымен берілген материктің аралдармен қоса есептегендегі ауданы



- A) 54 млн км²
- B) 18,3 млн км²**
- C) 14 млн км²
- D) 30,3 млн км²
- E) 9 млн км²

11. Мемлекеттің ішкі әкімшілік бөлінуін көрсететін карта

- A) саяси-әкімшілік картасы**
- B) табиғат зоналары картасы
- C) физикалық карта
- D) топографиялық карта
- E) климат картасы

12. Ресеймен шектесетін облыс

- A) Ақмола
- B) Маңғыстау
- C) Алматы
- D) Атырау**
- E) Қарағанды

13. Аустралиядағы машина жасау өнеркәсібінің ірі орталықтары

- A) Сидней, Мельбурн**
- B) Канберра, Дарвин
- C) Хаборт, Голд-Кост
- D) Ньюкасл, Брисбен
- E) Аделаида, Бандаберг

14. Қара металлургияның дамушы елдердегі ірі орталықтары

- A) Оңтүстік Корея, Таиланд, Катар
- B) Иран, Үндістан, Таиланд
- C) Оман, Малайзия, Лаос
- D) Кувейт, Филиппин, Қытай
- E) Бразилия, Қытай, Үндістан**

15. Шығыс Қазақстан облысында халық саны 1394 мың адам (2013 ж.), қала халқы 816 мың адам болса, ауыл халқының үлесі

- A) 50,5%
- B) 41,5%**
- C) 58,5%
- D) 70,3%
- E) 35,6%

16. Ең ұзақ эра

- A) архей
- B) мезозой
- C) кайнозой
- D) протерозой**
- E) палеозой

17. Шығыс пен Орталық Қазақстан экономикалық аудандарының мамандану ұқсастығы

- A) балық өңдеу
- B) қара металлургия
- C) отын өнеркәсібі
- D) түсті металлургия**
- E) машина жасау

18. Жоңғар қақпасы арқылы Ебінұрдан Алакөлге қарай соғатын жергілікті желдің жылдамдығы

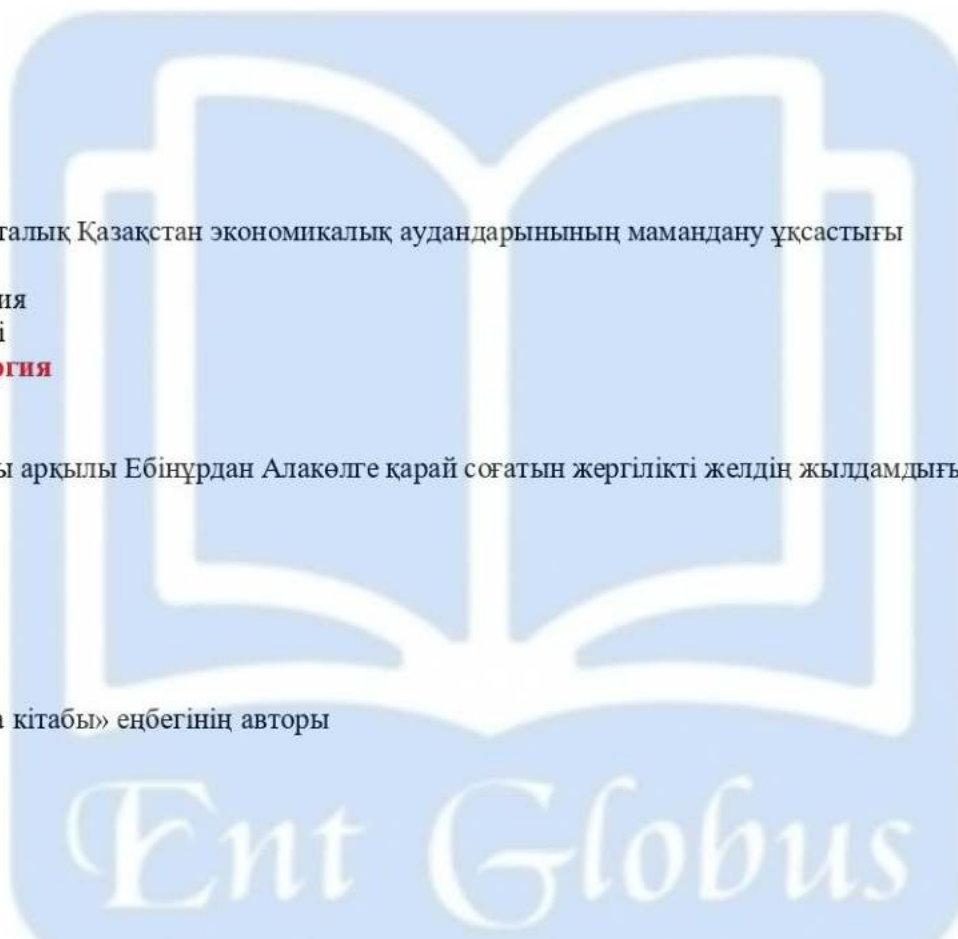
- A) 60-80 м/сек**
- B) 50 м/сек
- C) 30-35 м/сек
- D) 40 м/сек
- E) 50-60 м/сек

19. «Сібірдің сызба кітабы» еңбегінің авторы

- A) С. Ремезов**
- B) М. Қашғари
- C) Н. Северцов
- D) А. Гумбольдт
- E) А. Краснов

20. Ұшақ Астана қаласынан Лондон қаласына Астана уақытымен сағат 14⁰⁰- де ұшып шығады. Ұшақтың ұшу уақыты 6 сағат болса, Лондон қаласына ұшып келетін уақыты

- A) 21⁰⁰**
- B) 9⁰⁰
- C) 12⁰⁰
- D) 02⁰⁰
- E) 01⁰⁰



21. Негізгі климаттық белдеу(-лер)

- A) континенттік
- B) экваторлық**
- C) субантарктикалық
- D) субтропиктік
- E) субэкваторлық
- F) қоңыржай**
- G) субарктикалық
- H) тропиктік**

22. Ауа райының элемент(-тер)і

- A) найзағай
- B) температура**
- C) қысым**
- D) бұршақ
- E) бұлт
- F) ылғалдылық**
- G) боран
- H) тұман

23. Қазақстанға келетін тропиктік ауа массалары қалыптасатын аймақ(-тар)

- A) Тынық мұхиты
- B) Орта Азия**
- C) Солтүстік Мұзды мұхиты
- D) Үнді мұхиты
- E) Қытай
- F) Иран**
- G) Атлант мұхиты
- H) Батыс Еуропа

24. Қазақстан жер бедерінің ең төменгі жер(-лер)і

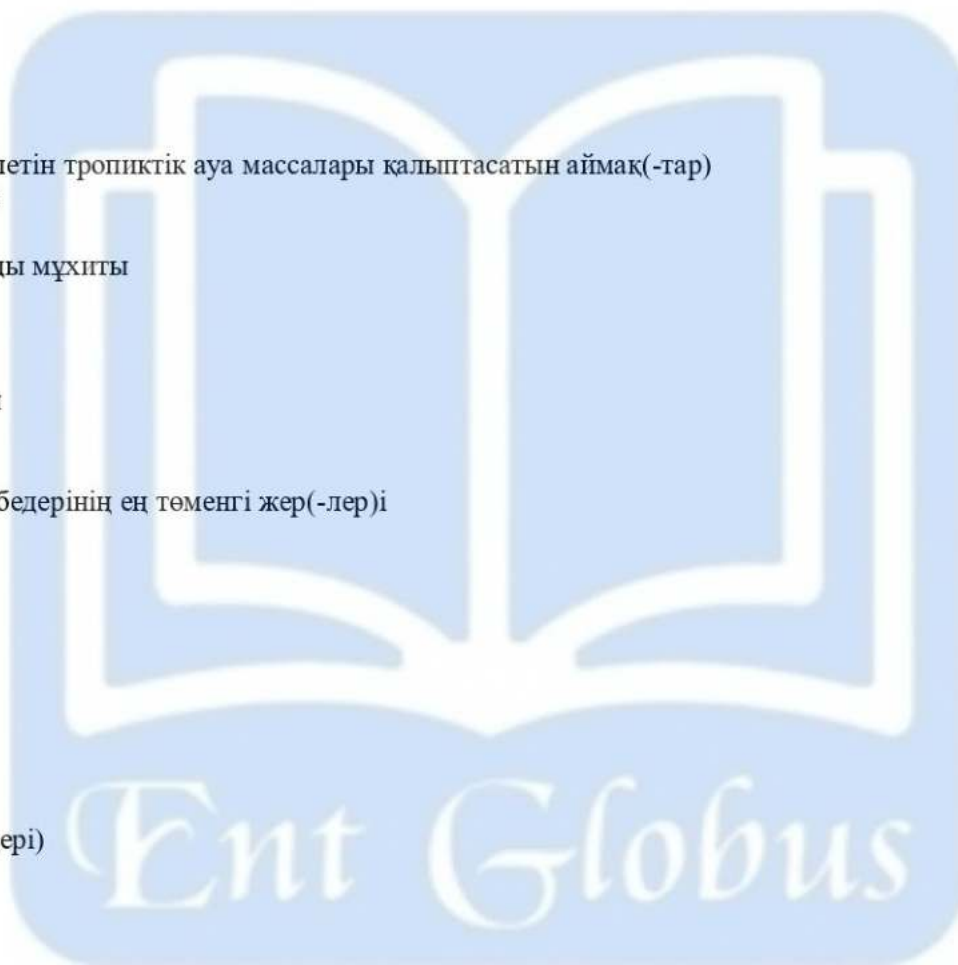
- A) Мұзтау
- B) Қызылқұм
- C) Өгем
- D) Үлкен Борсық
- E) Сайрам
- F) Үстірт
- G) Қарақия**
- H) Жалпы Сырт

25. Еуропа елі (елдері)

- A) Филиппин
- B) Норвегия**
- C) Куба
- D) Ирландия**
- E) Корея
- F) Намибия
- G) Словакия**
- H) Израиль

26. Жер шарындағы ең терең шұңғыма

- A) Зонд
- B) Кермадек
- C) Тонға
- D) Мариан**
- E) Алеут
- F) Пуэрто-Рико
- G) Перу
- H) Филиппин



27.Отын-энергетика кешенінің құрамына кіретін сала(-лар)

- A) темір өндірісі
- B) машина жасау
- C) көмір өндіру**
- D) металл құю
- E) бидай егу
- F) орман шаруашылығы
- G) химия өнеркәсібі
- H) құрылыс

28.Африканың Атлант мұхиты арқылы жүк айналымын жүзеге асыратын ірі порт(-тар)ы

- A) Касабланка**
- B) Генуя
- C) Триполи
- D) Алжир**
- E) Дар-эс-Салам
- F) Александрия**
- G) Канпала
- H) Момбаса

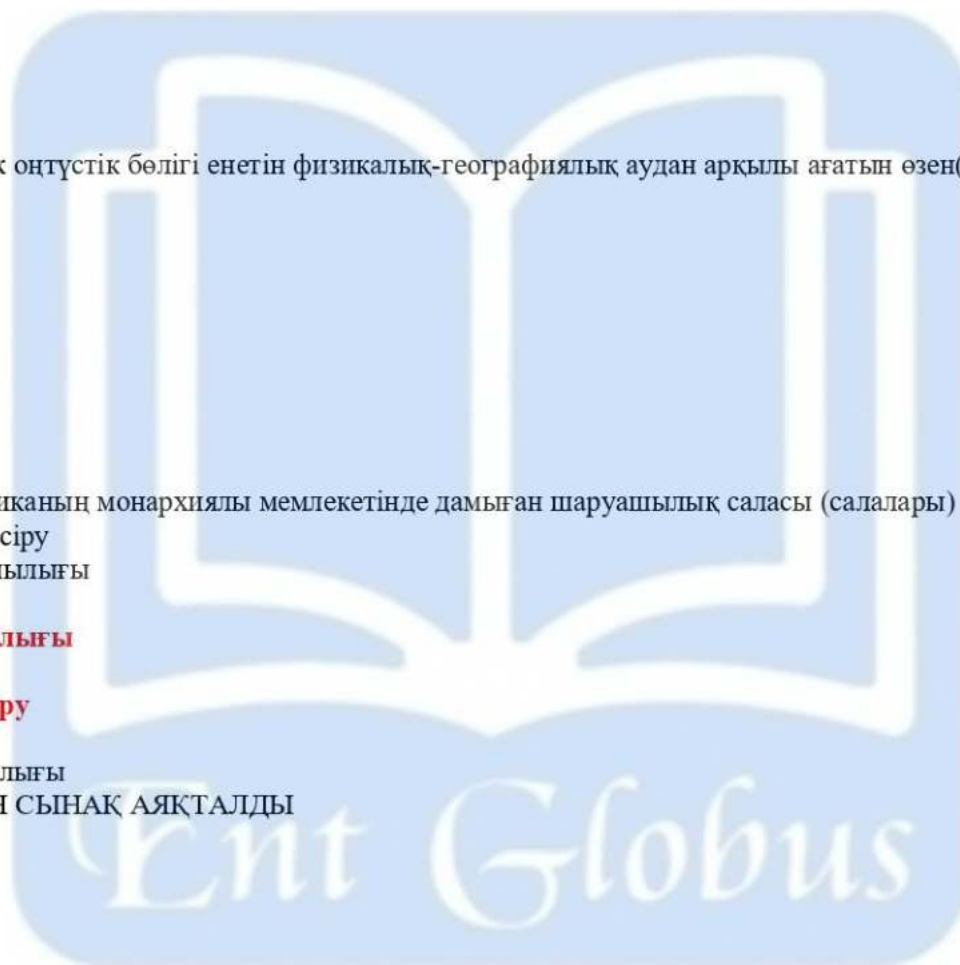
29.Қазақстанға тек оңтүстік бөлігі енетін физикалық-географиялық аудан арқылы ағатын өзен(-дер)

- A) Ертіс**
- B) Қаратал
- C) Сырдария
- D) Тобыл**
- E) Сарысу
- F) Есіл**
- G) Шу
- H) Іле

30.Солтүстік Африканың монархиялы мемлекетінде дамыған шаруашылық саласы (салалары)

- A) қант құрағын өсіру
- B) шошқа шаруашылығы
- C) газ өндіру
- D) қой шаруашылығы**
- E) ірі қара өсіру
- F) фосфорит өндіру**
- G) мыс өндіру
- H) бұғы шаруашылығы

ГЕОГРАФИЯДАН СЫНАҚ АЯҚТАЛДЫ



5-нұсқа

ГЕОГРАФИЯ

1. 1 см-де 50 м деп жазылған масштаб

- A) атаулы
- B) сызықтық
- C) ұсақ
- D) сандық
- E) деңгейлі

2. Ауаның жер бетіне жақын қабатындағы су буының мұз түйіршіктеріне айналған түрі

- A) қар
- B) бұршақ
- C) қылау
- D) жаңбыр
- E) мұз

3. Соқтығысу, ажырау, кірігу қозғалыстары болатын аймақ

- A) ядро мен жер қыртысының шекарасы
- B) мантия мен ядроның шекарасы
- C) литосфералық тақталар шекарасы
- D) базальт қабаты мен ядро аралығы
- E) ядро мен гранит қабаты аралықтары

4. Жер қыртысының қалыптасуына кеткен уақыт

- A) 2,5 - 3,5 млрд
- B) 4 - 5 млрд
- C) 4 - 7 млрд
- D) 1 - 3 млрд
- E) 2 - 4 млрд

5. Қазақстанның мемлекеттік құрылымы

- A) теократты
- B) унитарлы
- C) абсолютті монархия
- D) конституциялы монархия
- E) федерациялы

6. Оңтүстік Қазақстан экономикалық ауданындағы суперфосфат зауыты орналасқан қала

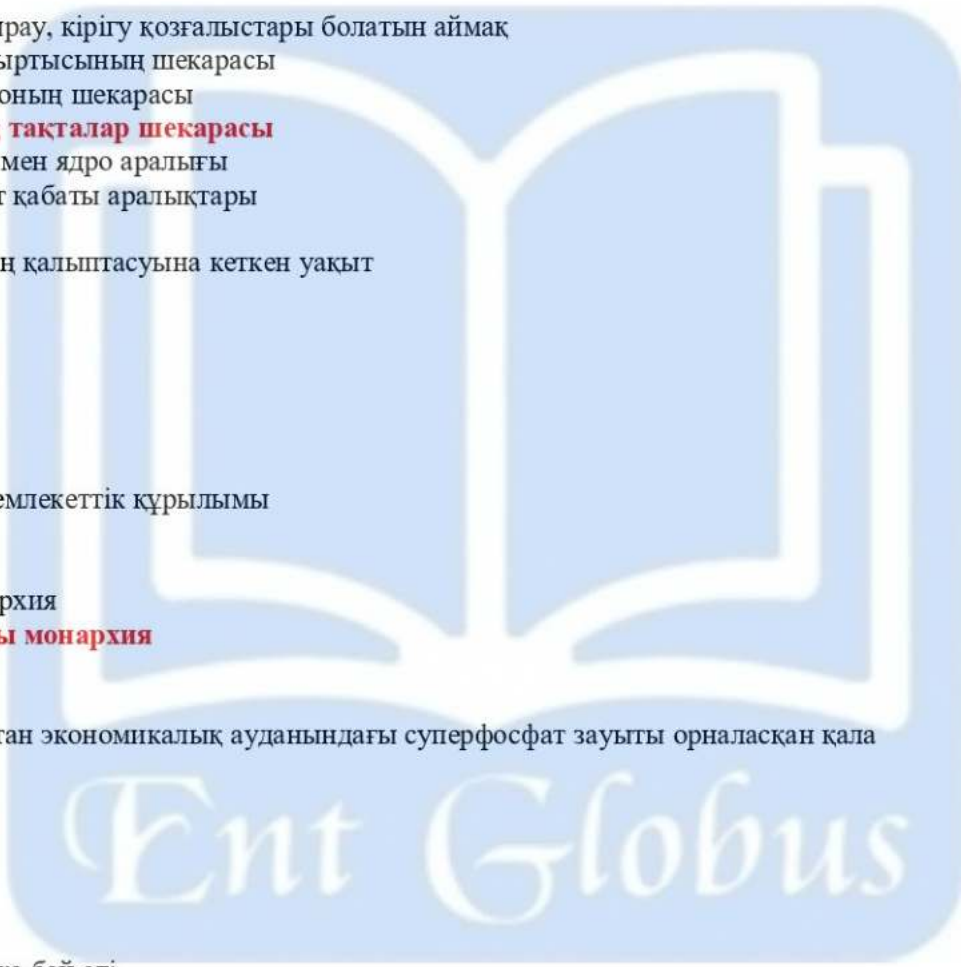
- A) Шымкент
- B) Тараз
- C) Алматы
- D) Талдықорған
- E) Кентау

7. Африканың мысқа бай елі

- A) Гвинея
- B) Намибия
- C) Замбия
- D) Алжир
- E) Марокко

8. ТМД мемлекеттері ішінде мұнай өндіруден жетекші ел

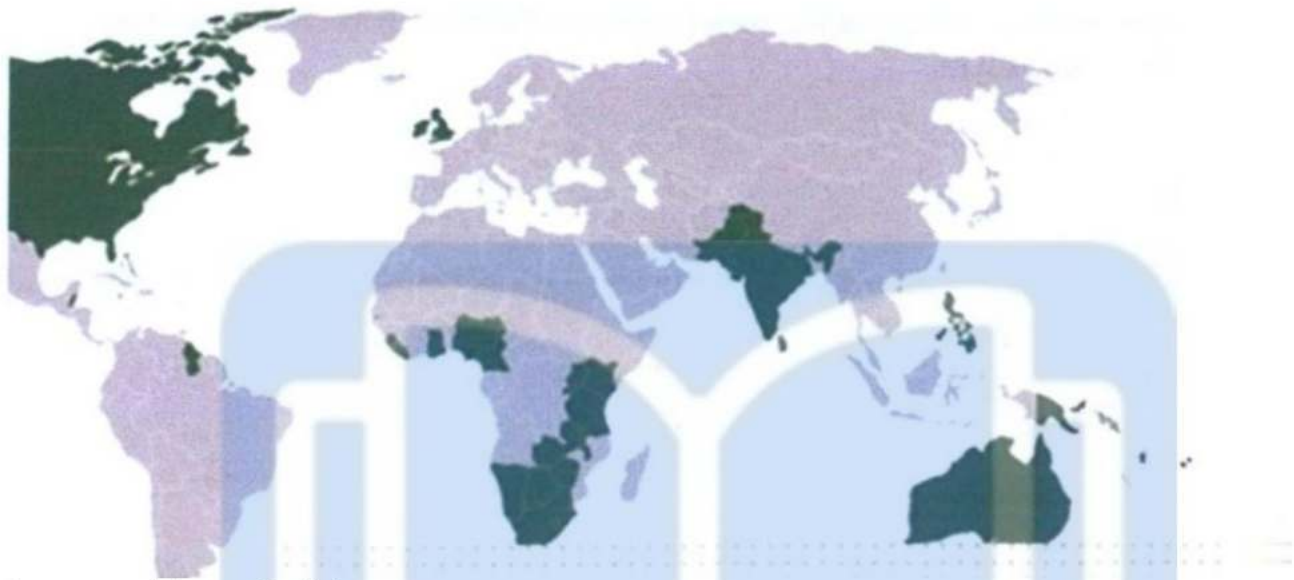
- A) Әзірбайжан
- B) Қазақстан
- C) Беларусь
- D) Ресей
- E) Украина



9.«Боинг» корпорациясының штаб-пәтері орналасқан мемлекет

- A) Жапония
- B) Қытай
- C) АҚШ**
- D) Канада
- E) Ұлыбритания

10.Жасыл түспен боялған елдерге тән ортақ белгі(-лер)



- I. Ағылшын тілінде сөйлейді
- II. Ақша бірлігі - АҚШ доллалары
- III. Жер аумақтары бойынша алғашқы ондыққа кіреді
- IV. Халқының саны 500 млн-нан асады

- A) I және III
- B) I және II
- C) II
- D) II және IV
- E) I**

11.Субэкваторлық ауыспалы ылғалды ормандар зонасына сәйкес келетін тұжырым

- A) Тек қана қылқанжапырақты ағаштар өседі
- B) Майшетен, жүзім, цитрус өсіріледі
- C) Негізгі жануарлары - қарсақ, қасқыр, түлкі
- D) Жазы аптап ыстық, құрғақ, ал қысы суық
- E) Үндістанның батыс жағалауын алып жатыр**

12.Ақтоғай-Достық теміржол байланысына жататын теміржол магистралі

- A) Трансазия**
- B) Трансқазақстан
- C) Оңтүстік - Сібір
- D) Орынбор - Ташкент
- E) Орта Сібір

13.Мұхиттық аралдарда орналасқан монархиялы ел

- A) Науру
- B) Тонга**
- C) Фиджи
- D) Тувалу
- E) Палау

14.Еуропаның монархиялық ұлы герцогтік басқару формасындағы елі

- A) Люксембург
- B) БАӘ
- C) Ватикан
- D) Тонга
- E) Оман

15.Таудың етегіндегі атмосфералық қысым 750 мм, таудың биіктігі 4300 м, тау шыңының атмосфералық қысымы

- A) 500 мм
- B) 380 мм
- C) 230 мм
- D) 320 мм
- E) 150 мм

16.Палеоген, неоген, антропоген дәуірлері жататын эра

- A) архей
- B) протерозой
- C) кайнозой
- D) палеозой
- E) мезозой

17.XVII ғасырда орыс саяхатшысының қазақ жерін картаға түсірген еңбегі

- A) «Сібірдің сызба кітабы»
- B) «Жылнамалар жинағы»
- C) «Диуани-лұғат ат-түрік»
- D) «Арал теңізі»
- E) «Түркістан»

18.Махмуд Қашғаридың еңбегі

- A) «Сібірдің сызба кітабы»
- B) «Жоңғария очерктері»
- C) «Арал теңізі»
- D) «Ғылымдардың шығуы»
- E) «Диуани лұғат ат-түрік»

19.Қазақстан Каспий теңізі арқылы байланыса алатын мемлекеттер

- A) Түркия, Грузия
- B) Ирак, Түркия
- C) Әзірбайжан, Иран
- D) Ресей, Түркия
- E) Өзбекстан, Түркіменстан

20.Таудың етегіндегі атмосфералық қысым 730 мм, ал шыңында 350 мм болса таудың биіктігі

- A) 230 м
- B) 3800 м
- C) 3500 м
- D) 7300 м
- E) 250 м

21.Мұхиттағы тіршілік дүниесінің тобы (топтары)

- A) планктон
- B) редуцент
- C) маквис
- D) консумент
- E) продуцент
- F) нектон
- G) рептилия
- H) бентос

22. Өтпелі климаттық белдеу(-лер)

- A) экваторлық
- B) субэкваторлық**
- C) қоңыржай
- D) субантарктикалық**
- E) арктикалық
- F) антарктикалық
- G) тропиктік
- H) субтропиктік**

23. Өндірістік сала(-лар)

- A) білім беру
- B) мәдениет
- C) ауылшаруашылығы**
- D) қызмет көрсету
- E) қоғамдық тамақтану
- F) ғылым
- G) денсаулық сақтау
- H) туризм

24. 1 т цемент алу үшін жұмсалатын шикізат мөлшері

- A) 2,5 т
- B) 2 т
- C) 0,5 т
- D) 3,5 т
- E) 1,5 т**
- F) 3 т
- G) 5 т
- H) 4т

25. Оңтүстік Африка Республикасы бай пайдалы қазба(-лар)

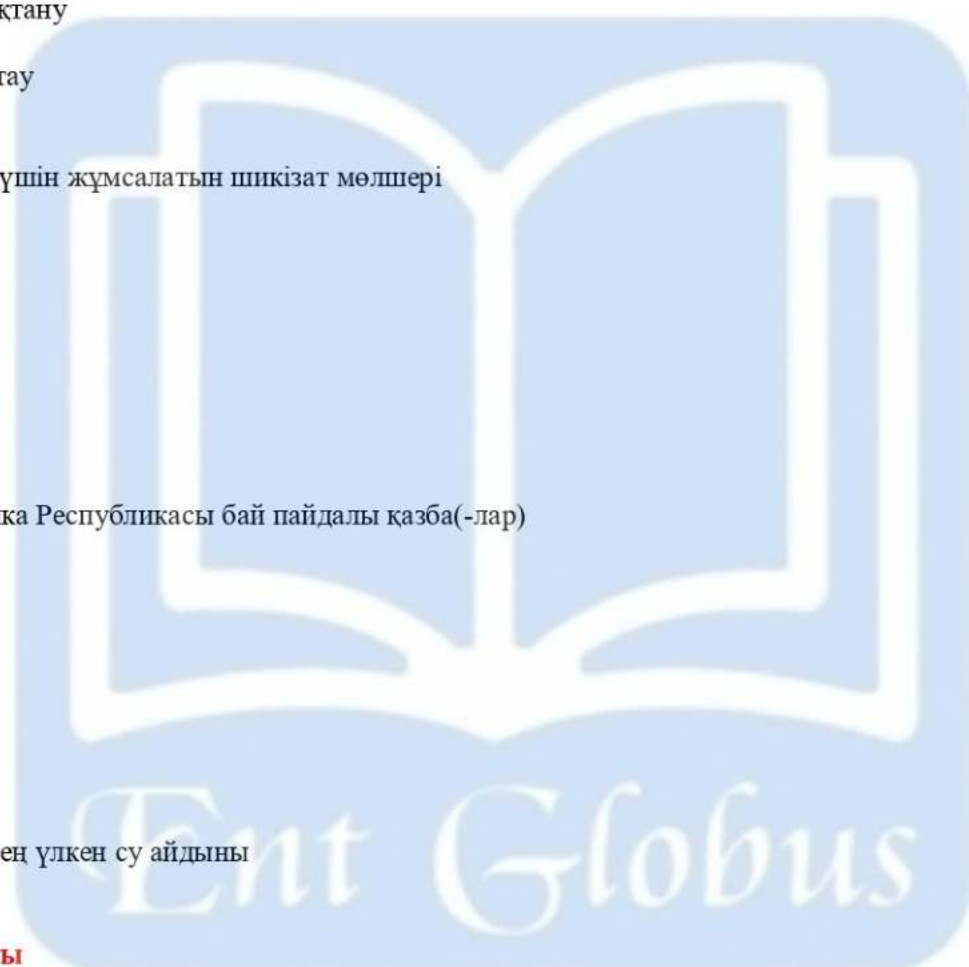
- A) платина**
- B) газ
- C) күміс
- D) полиметалл
- E) алтын**
- F) алмас**
- G) асбест
- H) мұнай

26. Дүние жүзінің ең үлкен су айдыны

- A) Каспий теңізі
- B) Кариб теңізі
- C) Тынық мұхиты**
- D) Үнді мұхиты
- E) Атлант мұхиты
- F) Фиджи теңізі
- G) Солтүстік Мұзды мұхит
- H) Мексика шығанағы

27. Халық санының көшіп келушілердің есебінен өсуі

- A) табиғи өсім
- B) туу
- C) механикалық қозғалыс**
- D) этнология
- E) демография
- F) халық санағы
- G) өлім-жітім
- H) халық саны динамикасы



28. Германияның мемлекеттік құрылымы

- A) абсолюттік монархия
- B) федерациялық теократтық монархия
- C) унитарлы конституциялық монархия
- D) федерациялық абсолюттік монархия
- E) федерациялық республика**
- F) теократтық монархия
- G) унитарлы республика
- H) конституциялық монархия

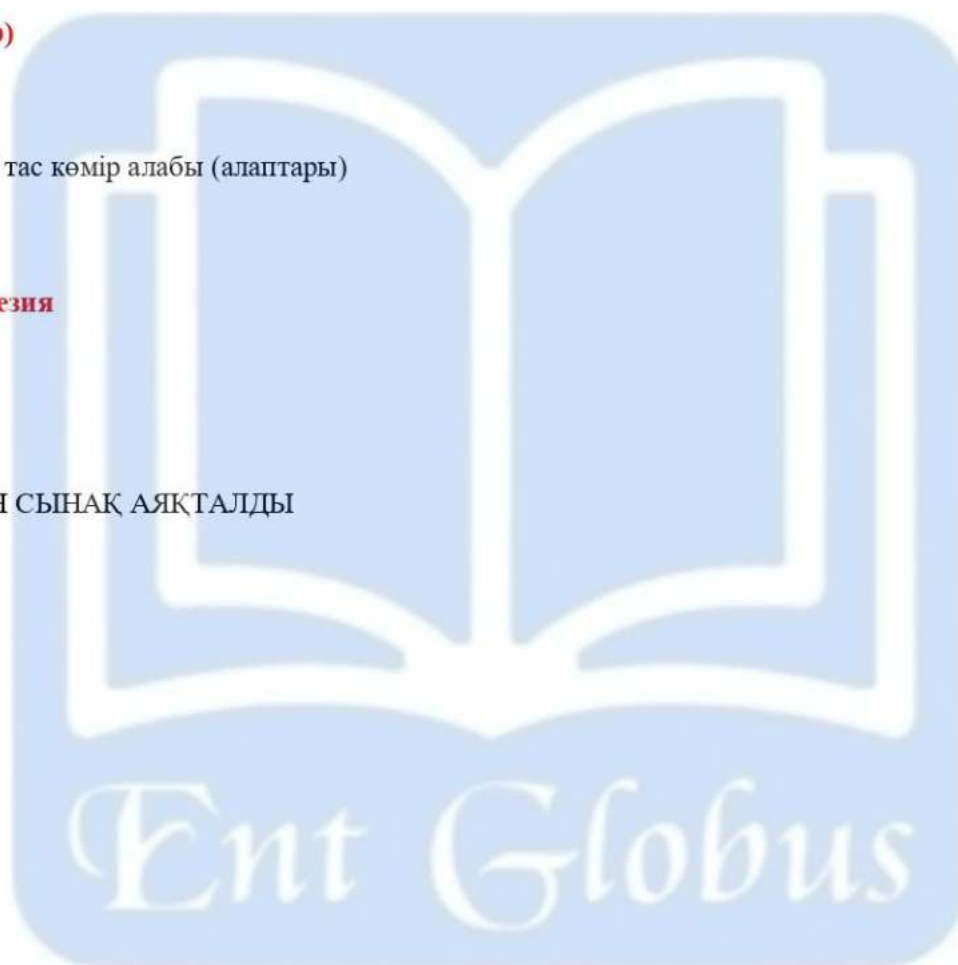
29. Үстірт қорығында қорғалатын жануар(-лар)

- A) сыбырлақ аққу
- B) орақтұмсық
- C) көзілдірікті аю
- D) сусар
- E) жұпар тышқан
- F) муфлон (арқар)**
- G) қабан
- H) қоқиқаз

30. Еуропадағы ірі тас көмір алабы (алаптары)

- A) Аньхой
- B) Рур**
- C) Ашпалач
- D) Жоғарғы Силезия**
- E) Қарағанды
- F) Донецк
- G) Каражас
- H) Кузнецк

ГЕОГРАФИЯДАН СЫНАҚ АЯҚТАЛДЫ



6-нұсқа

1. Гибралтар бұғазы бөлетін материктер
 А) Еуразия мен Солтүстік Америка
 В) Оңтүстік Америка мен Солтүстік Америка
 С) Еуразия мен Аустралия
 D) Оңтүстік Америка мен Антарктида
Е) Еуразия мен Африка

2. Астана қаласының географиялық бойлығы
 А) 74° ш.б.
В) 71° ш.б.
 С) 76° ш.б.
 D) 75° ш.б.
 E) 70° ш.б.

3. Ауаның жер бетіне жақын қабатындағы су буының мұз түйіршіктеріне айналған түрі
 А) мұз
 В) бұршақ
С) қылау
 D) қар
 E) жаңбыр

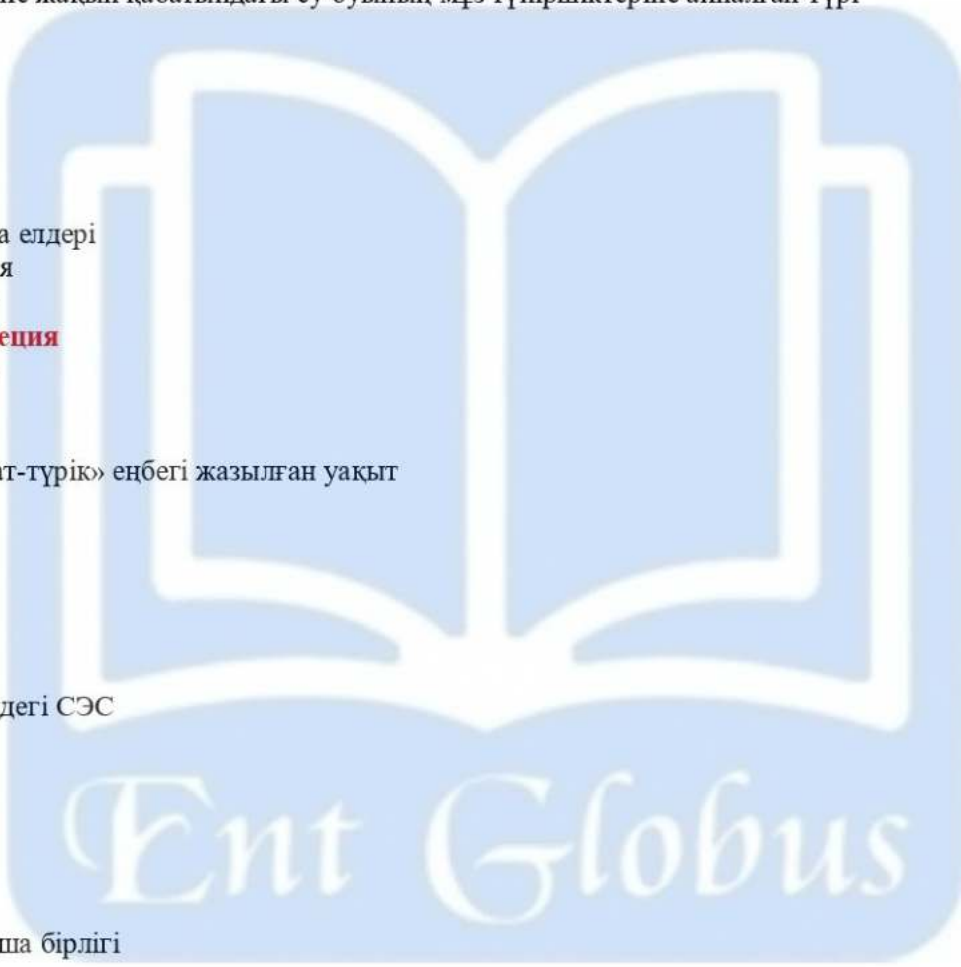
4. Солтүстік Еуропа елдері
 А) Венгрия, Латвия
 В) Бельгия, Чехия
С) Норвегия, Швеция
 D) Литва, Польша
 E) Латвия, Литва

5. «Диуани лұғат-ат-түрік» еңбегі жазылған уақыт
 А) Xғ.
 В) VIIғ.
С) XIғ.
 D) XVIIғ.
 E) IXғ.

6. Сырдария өзеніндегі СЭС
А) Шардара
 В) Шүлбі
 С) Қапшағай
 D) Бұқтырма
 E) Вячеслав

7. Үндістанның ақша бірлігі
А) рупий
 В) юань
 С) вон
 D) лир
 E) пена

8. Қалалардың өсуі мен қалалық өмір салтының кеңінен таралу үрдісі
 А) консолидация
 В) миграция
 С) демографиялық жарылыс
 D) ассимиляция
Е) урбандалу



9. Боксит өндіретін негізгі елдер

- A) **Аустралия, Ямайка**
- B) Аустралия, Германия
- C) Германия, Испания
- D) Франция, Ұлыбритания
- E) АҚШ, Жапония

10. Бағыттауышпен көрсетілген географиялық аймақ



- A) Бетпақдала
- B) **Солтүстік Қазақ жазығы**
- C) Тұран
- D) Қазақтың ұсақ шоқысы
- E) Мұғалжар

11. Атлант мұхитының ең таяз жері орналасқан қайран

- A) Кермадек
- B) Куриль-Камчатка
- C) **Доггер-Банка**
- D) Мариан
- E) Тонга

12. Аспан денелерін бақылап, Ай мен Күннің тұтылуын есептеген ғалым

- A) Ш. Уәлиханов
- B) Қ. Жалаири
- C) **Әл-Фараби**
- D) М. Қашғари
- E) В. Рубрук

13. Шекарасының бір бөлігі Каспий теңізі жағалауымен өтетін елдер

- A) Қырғызстан, Ресей, Қазақстан, Тәжікстан
- B) Өзбекстан, Ресей, Қазақстан, Түркіменстан
- C) Әзірбайжан, Ресей, Қырғызстан, Түркіменстан
- D) **Әзірбайжан, Ресей, Қазақстан, Түркіменстан**
- E) Тәжікстан, Украина, Қазақстан, Түркіменстан

14. Ресеймен шекарасы шектеспейтін ел

- A) Монғолия
- B) КХДР
- C) **Түркия**
- D) Қытай
- E) Қазақстан

15. Ылғалдану коэффициенті - 0,71, буланушылық - 700 мм болса, жауын-шашын мөлшері

- A) 248 мм
- B) 497 мм**
- C) 715 мм
- D) 316 мм
- E) 535 мм

16. Ең биік шыңы Аконкагуа болып табылатын таудың қалыптасуына әсер еткен литосфералық тақталар

- A) Наска, Тынық мұхит
- B) Антарктида, Үнді-Аустралия
- C) Үнді-Аустралия, Еуразия
- D) Оңтүстік Америка, Наска**
- E) Африка, Еуразия

17. Махмуд Қашғаридың еңбегі

- A) «Ғылымдардың шығуы»
- B) «Диуани лұғат ат-түрік»**
- C) «Сібірдің сызба кітабы»
- D) «Жоңғария очерктері»
- E) «Арал теңізі»

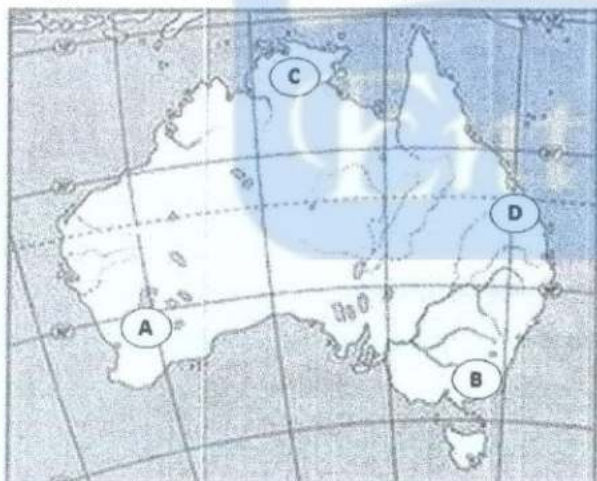
18. Қаратау жотасында кездесетін минералды ресурс

- A) алтын
- B) марганец
- C) фосфорит**
- D) күміс
- E) мыс

19. Қарағанды мен Теміртаудың айналасында топтасқан қала типтес елді мекендер

- A) Жезқазған, Топар, Өтеген
- B) Абай, Топар, Қапшағай
- C) Қапшағай, Талғар, Шымбұлақ
- D) Абай, Саран, Шахты**
- E) Қаскелең, Долинка, Есік

20. Суреттегі ақпаратқа сәйкес дұрыс тұжырым



- A) ең жоғары температура В нүктесінде байқалады
- B) Б нүктесі материктің батысында орналасқан
- C) экваторға ең жақын орналасқан нүкте А
- D) В нүктесінде ең төмен температура байқалады**
- E) С нүктесі тропиктік белдеуде орналасқан

21. Жердің су қабат(-тар)ы

- A) экзосфера
- B) атмосфера
- C) стратосфера
- D) биосфера
- E) тропосфера
- F) литосфера
- G) гидросфера**
- H) поносфера

22. Еуразияда орналасқан монархиялық мемлекет(-тер)

- A) Беларусь
- B) Қазақстан
- C) Ресей
- D) Украина
- E) Өзбекстан
- F) Қытай
- G) Ұлыбритания**
- H) Жапония**

23. Солтүстік Қазақстан экономикалық ауданынан жер көлемі үлкен Қазақстан Республикасының экономикалық аудан(-дар)ы

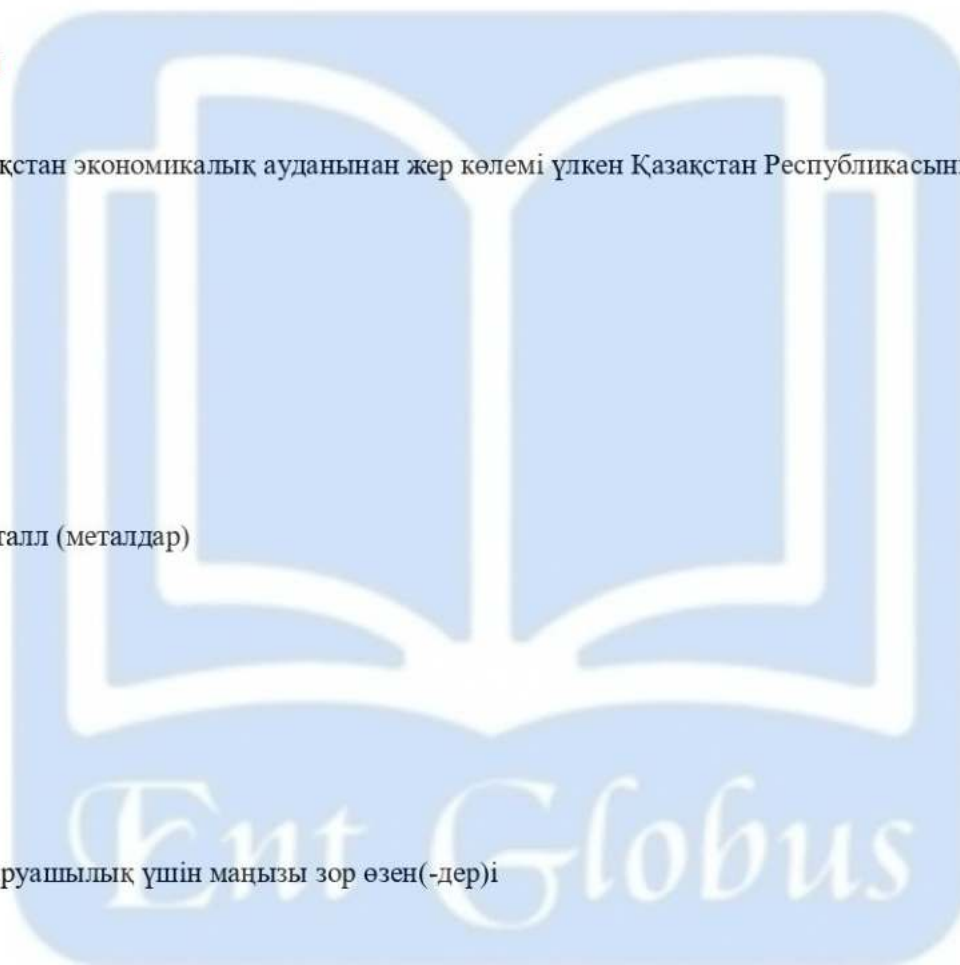
- A) Атырау
- B) Батыс**
- C) Алматы
- D) Шығыс
- E) Оңтүстік**
- F) Ақтөбе
- G) Орталық
- H) Қызылорда

24. Жеңіл түсті металл (металдар)

- A) мыс
- B) магний**
- C) мырыш
- D) қалайы
- E) титан**
- F) никель
- G) алюминий**
- H) қорғасын

25. Африканың шаруашылық үшін маңызы зор өзен(-дер)і

- A) Нигер**
- B) Эйр-Норд
- C) Конго**
- D) Лобнор
- E) Виктория
- F) Чад
- G) Танганьика
- H) Ніл**



26. Суық ағыс(-тар)
 А) Гольфстрим
 В) Солтүстік Пассат
С) Батыс Желдер
D) Лабрадор
 Е) Куроисио
 F) Бразилия
 G) Шығыс Аустралия
 H) Солтүстік Атлант

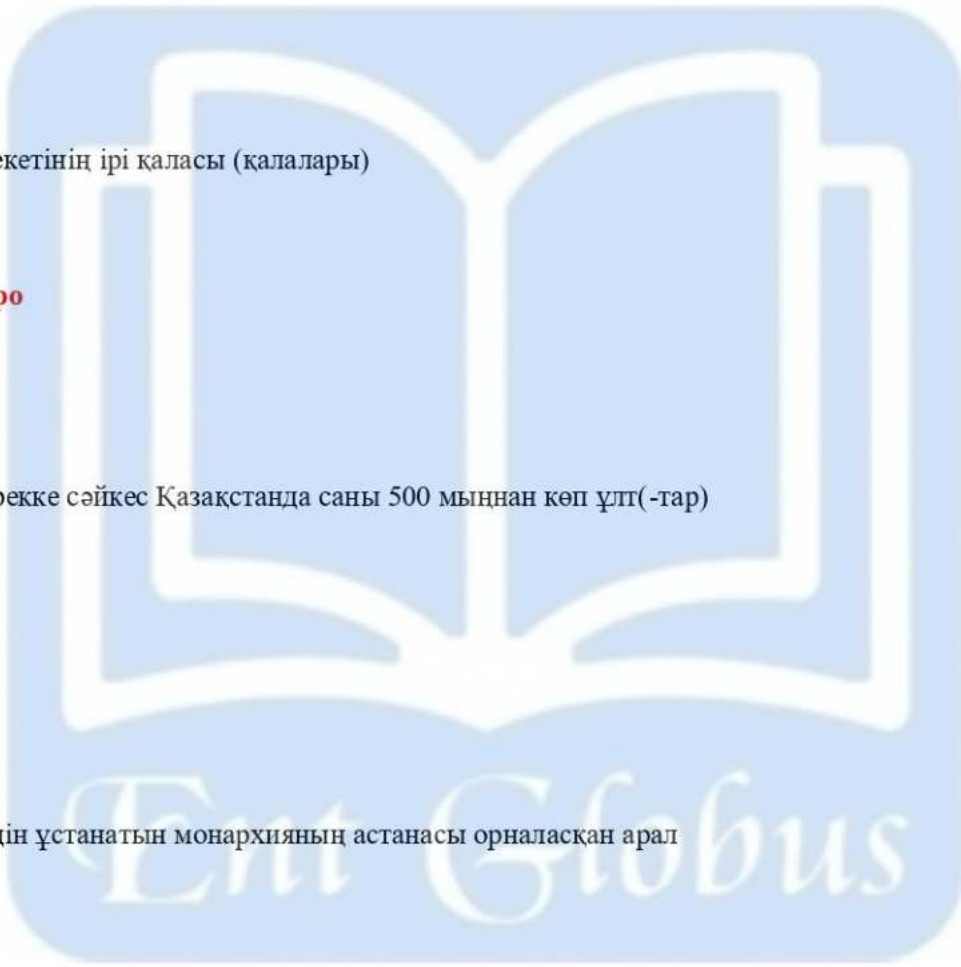
27. Қазақстанмен шектесетін мемлекет(-тер)
 А) Франция
 В) Түркия
 С) Үндістан
 D) Жапония
 Е) Ауғанстан
F) Қытай
G) Ресей
 H) Украина

28. Бразилия мемлекетінің ірі қаласы (қалалары)
 А) Лондон
B) Манаус
 С) Оттава
D) Рио-де-Жанейро
 Е) Токіо
 F) Сан-Паулу
G) Бостон
 H) Монреаль

29. 2013 жылғы дерекке сәйкес Қазақстанда саны 500 мыңнан көп ұлт(-тар)
 А) әзірбайжандар
B) өзбектер
 С) түріктер
 D) ұйғырлар
E) орыстар
F) қазақтар
 G) немістер
 H) татарлар

30. Халқы ұлттық дін ұстанатын монархияның астанасы орналасқан арал
 А) Калимантан
 В) Суматра
 С) Хоккайдо
 D) Жаңа Гвинея
 Е) Жаңа-Зеландия
 F) Тайвань
G) Хонсю
 H) Шри-Ланка

ГЕОГРАФИЯДАН СЫНАҚ АЯҚТАЛДЫ



7-нұсқа

1. Температуралары бірдей нүктелерді қосатын қисық сызықтар

- A) изобарлар
- B) горизонтальдар
- C) изогнеталар
- D) изотермалар**
- E) изохоралар

2. Нүктенің жер бетіндегі орнын белгілейтін шамалар

- A) географиялық бойлықтар
- B) географиялық ендіктер
- C) географиялық координаталар**
- D) географиялық карталар
- E) градус торлары

3. Жердегі тірі ағзалар мекендейтін және олардың әсерінен өзгерген қабығы

- A) экзосфера
- B) биосфера**
- C) мезосфера
- D) ионосфера
- E) стратосфера

4. Өшпелі географиялық белдеу

- A) қоңыржай
- B) субтропиктік**
- C) экваторлық
- D) тропиктік
- E) полярлық

5. Шығыс Қазақстан облысының қаласы

- A) Атасу
- B) Екібастұз
- C) Жезқазған
- D) Риддер**
- E) Павлодар

6. Урбандалу деңгейі жоғары облыс

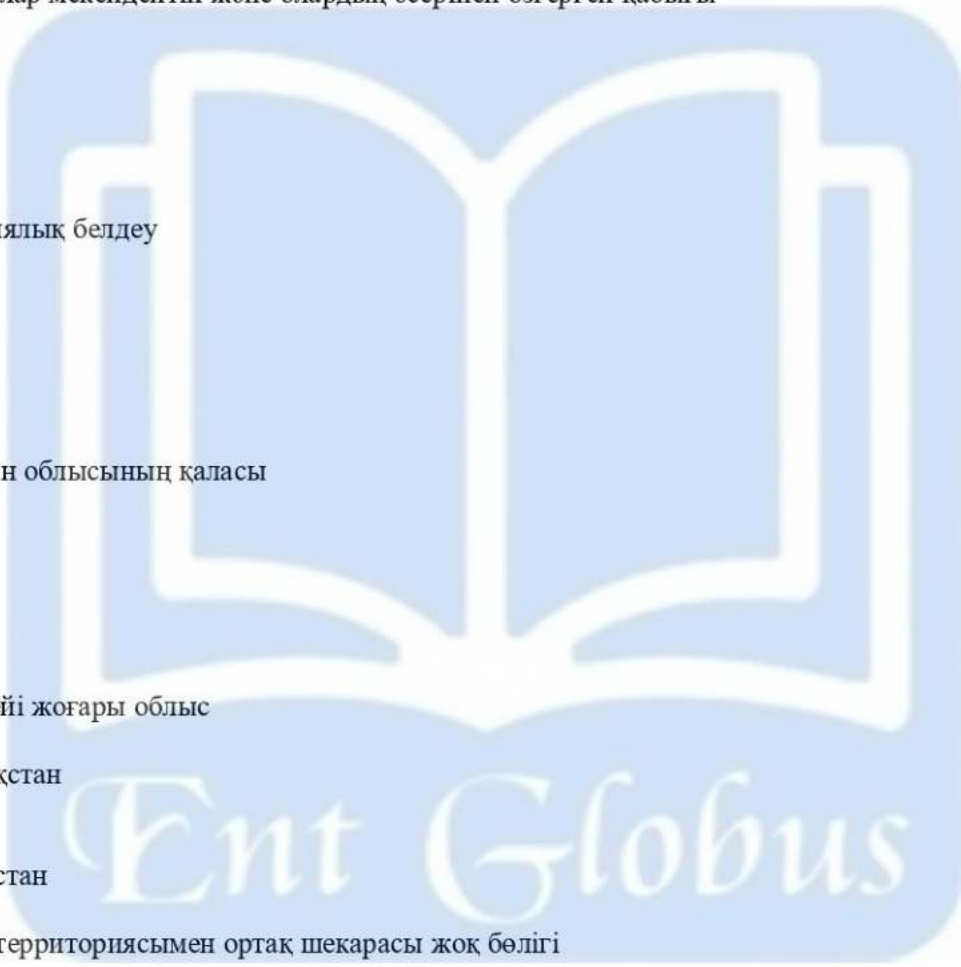
- A) Қарағанды**
- B) Солтүстік Қазақстан
- C) Қызылорда
- D) Алматы
- E) Оңтүстік Қазақстан

7. Ресейдің негізгі территориясымен ортақ шекарасы жоқ бөлігі

- A) Батыс-Сібір
- B) Волга-Вятка
- C) Орал
- D) Калининград**
- E) Қиыр Шығыс

8. Түркияның ең үлкен қаласы

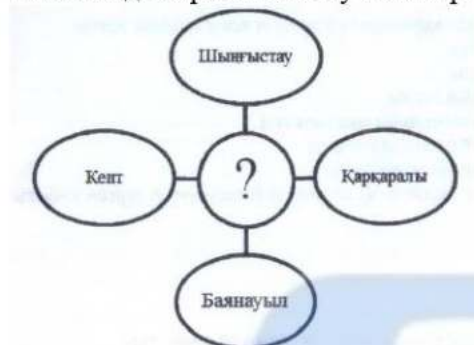
- A) Джейхан
- B) Стамбұл**
- C) Адана
- D) Батман
- E) Кайсери



9. Шығыс Еуропада жүк айналымының үлесі басым көлік түрі

- A) құбыр жолы
- B) өзен жолы
- C) автомобиль
- D) әуе жолы
- E) теміржол**

10. Сызбада көрсетілген тау жоталары тиесілі физикалық-географиялық аймақ



- A) Мұғалжар
- B) Шығыс Еуропа
- C) Сарыарқа**
- D) Алтай
- E) Тянь-Шань

11. Қатты жапырақты мәңгі жасыл ормандар мен бұталар зонасына сәйкес келетін тұжырым

- A) Үндістанның батыс жағалауын алып жатыр
- B) Тек қана қылқанжапырақты ағаштар өседі,
- C) Жазы аптап ыстық, құрғақ, ал қысы суық
- D) Жазы ыстық, құрғақ, қысы жылы, ылғалды**
- E) Негізгі жануарлары - қарсақ, қасқыр, түлкі

12. Оңтүстік Орал мен Еділ өзендерінің аралығында орналасқан қырат

- A) Каспий маңы
- B) Жем
- C) Бетпақдала
- D) Жалпы Сырт**
- E) Үстірт

13. Күріш өсіретін негізгі елдер

- A) Аргентина, Жапония, Үндістан
- B) Жапония, Ұлыбритания, Непал
- C) Қытай, Ресей, Канада
- D) Индонезия, ОАР, Ангола**
- E) Қытай, Жапония, Индонезия

14. Ең үлкен дүние бөлігінде орналасқан федерациялы монархия елі

- A) БАӘ**
- B) Жапония
- C) Сауд Арабиясы
- D) Катар
- E) Үндістан

15. Қазақстанның жер аумағы 2724,9 мың км², ал Батыс Қазақстан облысының ауданы 151 мың км². Батыс Қазақстан облысының Қазақстан аумағындағы үлесі

- A) «5,5%**
- B) «4,8%
- C) «4,5%
- D) «6,5%
- E) «5,8%

16. Алғашқы аквалангты жасаған теңізші

- A) Т.Хейердал
- B) А.Гумбольдт
- C) М.Бехайм
- D) Ф.Крузенштерн
- E) Ж. Кусто**

17. Қаратау жотасында кездесетін минералды ресурс

- A) алтын
- B) марганец
- C) фосфорит**
- D) күміс
- E) мыс

18. Жапонияда таралған ұлттық дін

- A) даосизм
- B) шаманизм
- C) тотемизм
- D) иудаизм
- E) синтоизм**

19. Шығыс Қазақстан жер ресурсының 80% ауылшаруашылығына жарамды, облыстағы ауылшаруашылығына пайдаланатын жердің ауданы (ШҚО ауданы - 283,2 мың км²)

- A) ≈226 мың км²**
- B) ≈283 мың км²
- C) ≈353 мың км²
- D) ≈22,6 мың км²
- E) ≈28,2 мың км²

20. +30°C температурада, салыстырмалы ылғалдылық 50% болса, ауаны су буымен қанықтыру үшін қажет су буы мөлшері

- A) 50 г
- B) 20 г
- C) 15 г**
- D) 10 г
- E) 30 г

21. Атлант мұхиты табиғатына тән ерекшелік(-тер)

- A) су асты жотасы 11000 км-ге созылған**
- B) Арктикалық белдеуден Антарктикалыққа дейін созылып жатыр**
- C) ауданы бойынша ең үлкен
- D) Дүниежүзілік мұхиттың ең жоғарғы температурасы байқалады
- E) Романш жарығы екі бөлікке бөліп жатыр**
- F) жағалық сызықтары күшті тілімденген
- G) тереңдігі бойынша ең таяз
- H) муссон құбылыстары байқалады

22. Ауа райының элемент(-тер)і

- A) найзағай
- B) температура**
- C) қысым**
- D) бұршақ
- E) бұлт
- F) ылғалдылық**
- G) боран
- H) тұман

23. Қазақстандағы ферроқорытпа зауыты орналасқан елді мекен(-дер)

- A) Лисаков
- B) Ақтөбе**
- C) Жәйрем
- D) Алматы
- E) Ақсу**
- F) Балқаш
- G) Жезқазған
- H) Қаражал

24. Аустралия жағалауын шайып жатқан теңіз(-дер)

- A) Маржанды**
- B) Гасман**
- C) Тимор**
- D) Норвег
- E) Баффин
- F) Гренланд
- G) Филиппин
- H) Баренц

25. Парсы шығанағындағы ел(-дер)

- A) Гана, Замбия
- B) Бельгия, Швеция
- C) Бельгия, Грекия
- D) БАӘ, Оман**
- E) Сауд Арабиясы, Катар**
- F) Бруней, Малайзия
- G) Бахрейн, Кувейт**
- H) Эквадор, Перу

26. Қатпарлы тау(-лар)


- A) Тарбағатай
- B) Кавказ**
- C) Алтай
- D) Жетісу Алатауы
- E) Кордильера**
- F) Орал
- G) Альпі**
- H) Тянь-Шань

27. Қазақстандағы 1899 жылы игерілген алғашқы мұнай кәсіпшілігі (кәсіпшіліктері)

- A) Қарашүңгіл**
- B) Мақат
- C) Құмкөл
- D) Атырау
- E) Құрманғазы
- F) Теңіз
- G) Қарашығанақ
- H) Доссор

28. Бразилия мемлекетінің ірі қаласы (қалалары)

- A) Лондон
- B) Манаус**
- C) Оттава
- D) Рио-де-Жанейро**
- E) Токио
- F) Сан-Паулу**
- G) Бостон
- H) Монреаль



29. Шығыс Еуропа жазығының қазақстандық бөлігі (бөліктері)

A) Үстірт қыраты

B) Орал алды үстірті

C) Торғай үстірті

D) Сырдария жазығы

E) Балқаш-Апақөл қазаншұңқыры

F) Арал маңы

G) Жалпы Сырт

H) Каспий маңы ойпаты

30. Суэц каналы бөліп жатқан дүние бөлігі (бөліктері)

A) Солтүстік Америка

B) Азия

C) Антарктида

D) Оңтүстік Америка

E) Еуразия

F) Африка

G) Америка

H) Аустралия

